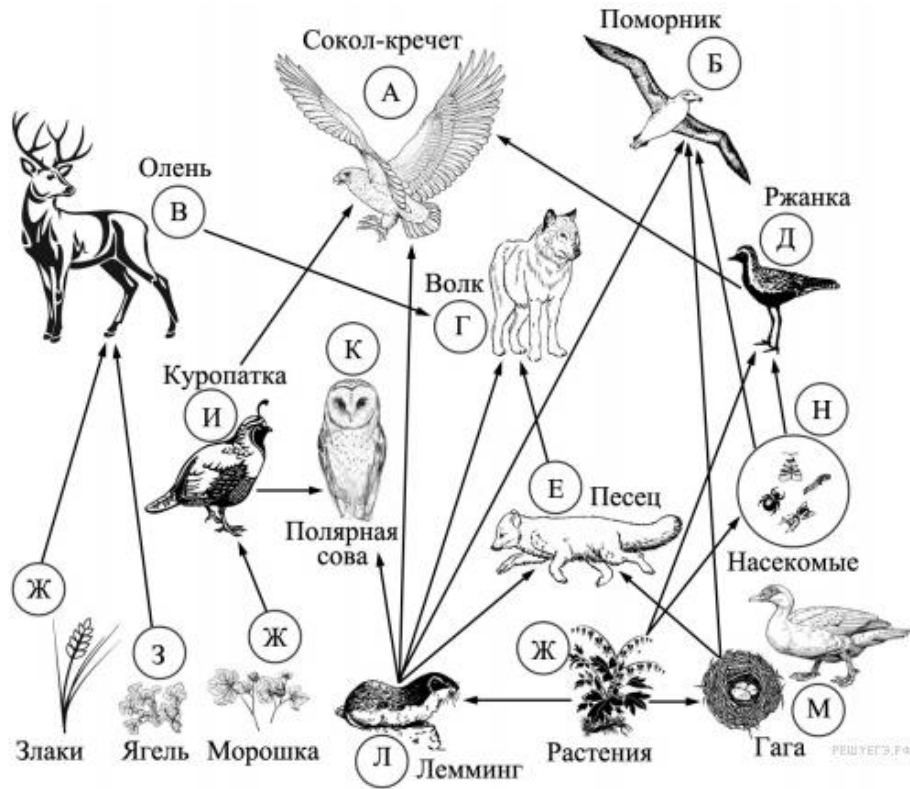


Ф.И _____ класс _____ дата _____

Составьте пищевую цепь организмов, в которую входит песец, начиная с растений. В ответе запишите последовательность букв.

Изучите фрагмент экосистемы тундры, представленный на рисунке, и выполните задания.

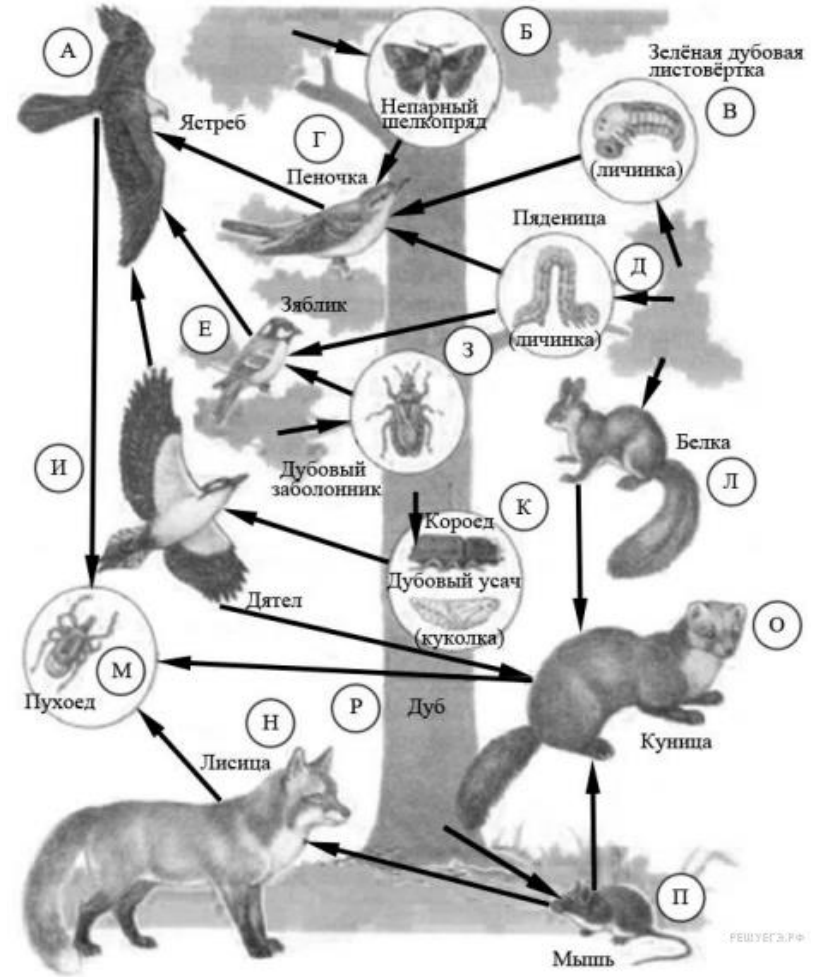


Ответ:

Ф.И _____ класс _____ дата _____

Составьте пищевую цепь организмов, в которую входит зяблик, начиная с растения. В ответе запишите последовательность букв.

Изучите фрагмент экосистемы леса, представленный на рисунке, и выполните задания.

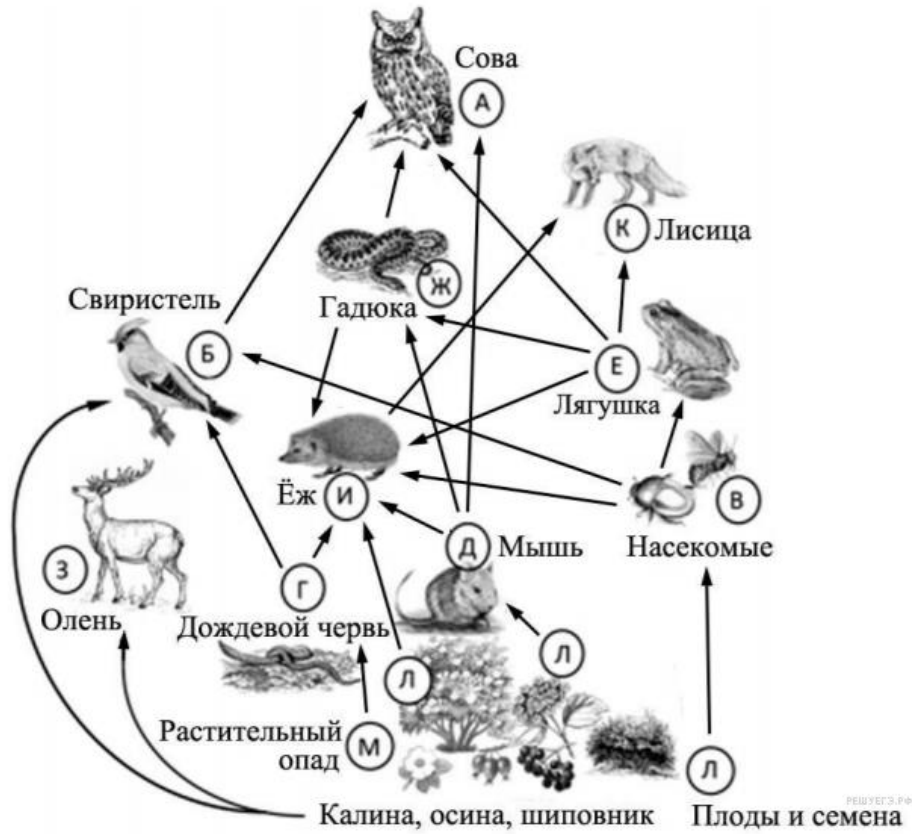


Ответ:

Ф.И _____ класс _____ дата _____

Составьте пищевую цепь организмов, в которую входит лягушка, начиная с растения. В ответе запишите последовательность букв.

Изучите фрагмент экосистемы леса, представленный на рисунке, и выполните задания.

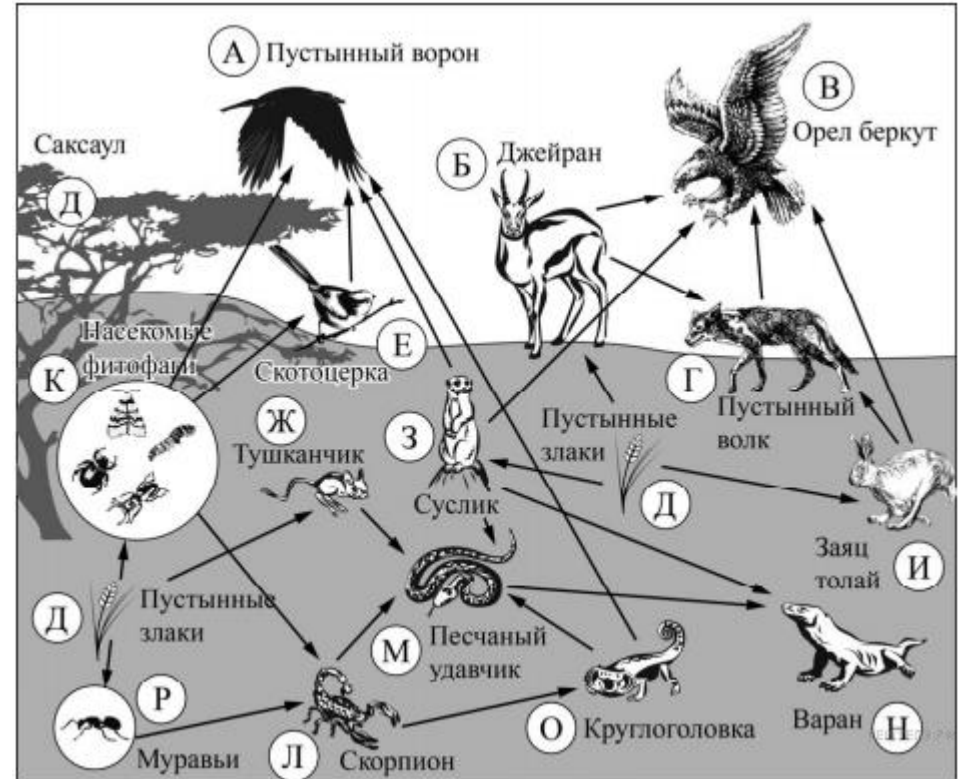


Ответ:

Ф.И _____ класс _____ дата _____

Составьте пищевую цепь организмов, в которую входит варан, начиная с продуцентов. В ответе запишите последовательность букв.

Изучите фрагмент экосистемы пустыни, представленный на рисунке, и выполните задания.

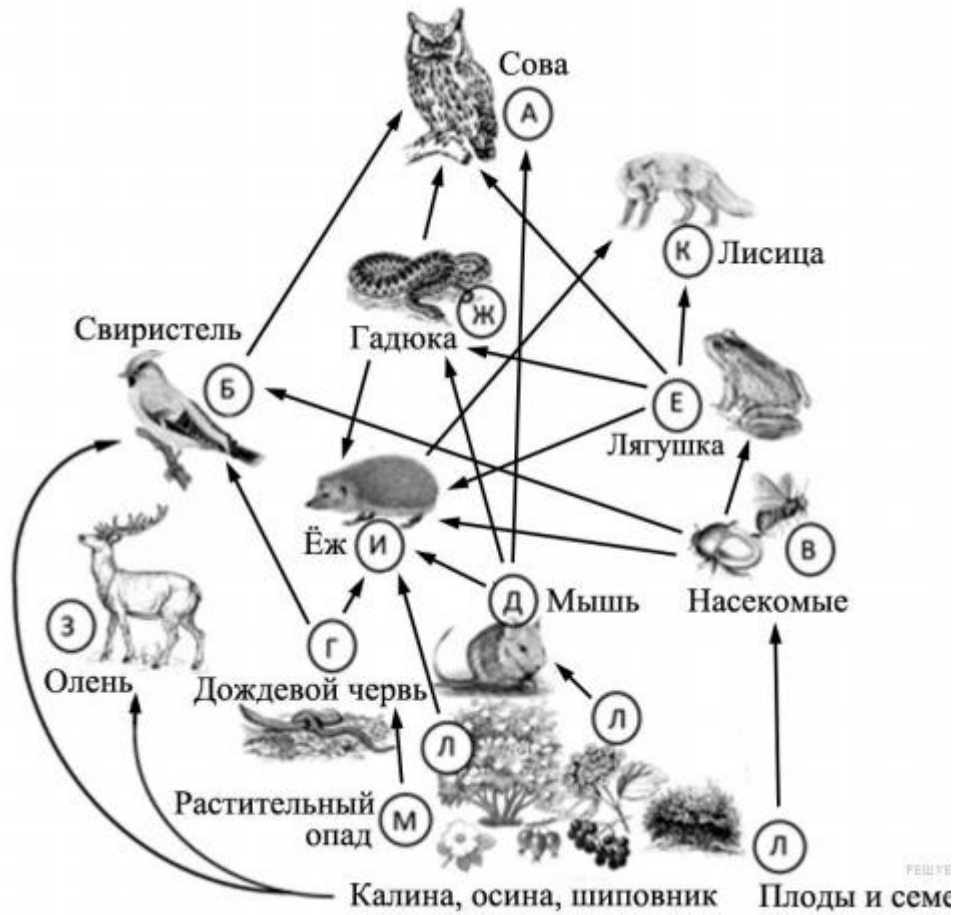


Ответ:

Ф.И _____ класс _____ дата _____

Составьте пищевую цепь организмов, в которую входит лисица, начиная с растения. В ответе запишите последовательность букв.

Изучите фрагмент экосистемы леса, представленный на рисунке, и выполните задания.

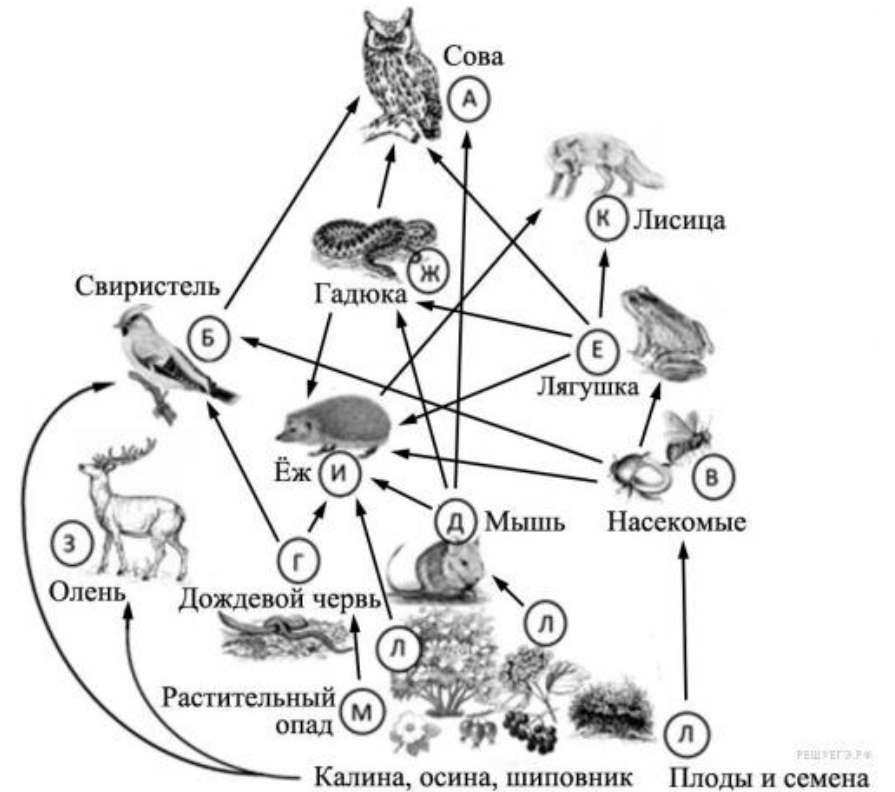


Ответ:

Ф.И _____ класс _____ дата _____

Составьте пищевую цепь организмов, в которую входит сова, начиная с растения. В ответе запишите последовательность букв.

Изучите фрагмент экосистемы леса, представленный на рисунке, и выполните задания.



Ответ: